
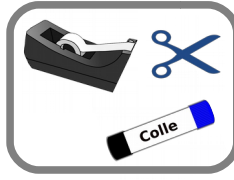




Prénom : .....

## “Les tunnels”

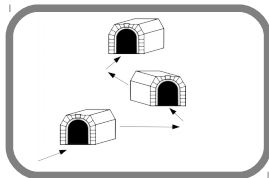
### Matériel :



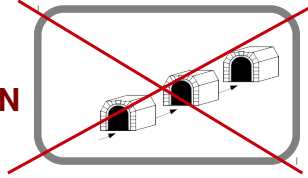
### Consigne :

- Construis trois tunnels les plus étroits possibles et non alignés.

OUI



NON



- Prépare un parcours pour que Thymio traverse les trois tunnels tout seul.
- Dessine ce que tu as réalisé.
- Mesure la largeur de chaque tunnel 1. .... 2. .... 3. ....
- Note quelques remarques selon ce que tu as observé.

---

---

