

## **Question 1 – Besoins, biens, services (15 points)**

Répondez, lorsque c'est possible, par des phrases complètes, aux questions suivantes :

1. Classez les différents biens suivants selon qu'ils apportent satisfaction à des besoins individuels ou à des besoins collectifs :

***Un bus, une pomme, un crayon, une école***

<b>Individuel</b>	<b>Collectif</b>

**/ 2 pts**

2. Lisez les citations suivantes et répondez aux questions relatives.

*« L'activité économique est toute forme par laquelle un bien ou un service est produit, intermédié et/ou vendu pour satisfaire un besoin ou un désir. »<sup>1</sup>*

a) Dans cette citation, définissez le besoin de l'homme pour l'économie.

.....  
.....

**/ 2 pts**

b) Expliquez la différence entre les notions de bien et de service.

.....  
.....

**/ 2 pts**

<sup>1</sup> Source : <https://economy-pedia.com/11030556-economic-activity>, consulté le 06.12.2022

« Les plus riches ont remplacé le besoin par les besoins. »

Paul Morand

c) A quelle catégorie fait-on allusion lorsque l'on parle du besoin ?

.....

/ 1 pt

d) Et lorsque l'on parle des besoins ?

.....

/ 1 pt

3. Après avoir lu le texte en **Annexe 1 (pages 16 – 17)**, répondez aux questions suivantes :

a) Relevez précisément dans le texte deux facteurs qui expliquent la hausse des prix des carburants. Faites ensuite le lien avec la définition de l'Économie politique.

.....  
.....  
.....  
.....  
.....  
.....  
.....  
.....  
.....  
.....

/ 3 pts

b) Qu'est-ce qui a causé un accroissement du prix des voitures d'occasion ? Faites un lien avec la notion de rareté.

.....  
.....  
.....  
.....  
.....

/ 2 pts

c) Définissez ce qu'est la notion de pouvoir d'achat.

.....  
.....

**/ 1 pt**

d) Pourquoi va-t-il diminuer pour les Suisses ?

.....  
.....

**/ 1 pt**

## **Question 2 – Vrai / Faux (7 points)**

**Mettez une croix dans la colonne Vrai ou Faux et justifiez l'affirmation si vous indiquez que cette dernière est fausse. La négation de l'affirmation n'est pas considérée comme étant valable.**

		<b>Vrai</b>	<b>Faux</b>	<b>Justification</b>
1.	La viticulture (la culture du vin) est classée dans le secteur secondaire.			
2.	Lorsque les intentions des consommateurs et des producteurs coïncident en termes de prix, nous sommes dans une situation de prix d'équilibre.			
3.	Le temps de travail annuel des personnes actives a considérablement augmenté au cours des 70 dernières années.			
4.	L'air est gratuit, car il est nécessaire à la vie.			
5.	Un roman policier est considéré comme un bien économique.			
6.	Un architecte travaille dans le secteur secondaire.			
7.	La demande correspond aux besoins qu'éprouve tout individu à tout moment de la journée, qui créent en lui le désir de les satisfaire.			
8.	La filière inversée répond aux besoins exprimés par les consommateurs.			

**/ 7 pts**

### **Question 3 – Questions à choix multiples (10 points)**

Lisez attentivement l'énoncé puis soulignez la meilleure proposition a, b, c ou d. Une seule réponse par question !

**Exemple :**

**Huit plus deux font :**

a) dix,

b) douze moins deux,

c) les deux réponses ci-dessus sont exactes.

d) aucune des réponses ci-dessus n'est exacte.

**Attention, seule la réponse c) rapporte 1 point !**

**1) Une camionnette peut être :**

- a) un bien de consommation
- b) un bien de production
- c) un bien durable
- d) toutes les réponses ci-dessus sont correctes

**2) La quantité de biens ou de services que l'on désire acquérir dépend :**

- a) de son utilité
- b) de l'aptitude de ce bien à satisfaire un besoin
- c) des possibilités financières
- d) toutes les réponses ci-dessus sont correctes

**3) Depuis le retour des talibans en Afghanistan, le prix des billets d'avion pour en sortir a considérablement augmenté. Le facteur qui influence la formation du prix des billets d'avion est :**

- a) l'intervention de l'État
- b) politique
- c) la spéculation boursière
- d) aucune des réponses ci-dessus n'est correcte

**4) Le circuit économique est :**

- a) un schéma qui montre toutes les opérations entre les entreprises et la banque
- b) une théorie de l'activité économique qui part des relations entre agents
- c) une représentation simplifiée de l'économie qui montre les relations entre les agents économiques
- d) un circuit de voitures électriques

**5) Une partie des impôts prélevés est ensuite redistribuée en vue :**

- a) d'aider les plus démunis
- b) de fournir des services publics
- c) de fournir des biens publics
- d) toutes les réponses ci-dessus sont correctes

**6) Une entreprise de nettoyage industriel fait partie du :**

- a) secteur primaire
- b) secteur secondaire
- c) secteur tertiaire
- d) secteur bipolaire

**7) Des intempéries dans le sud de l'Inde ont détruit des usines dans la chaîne de production d'automobiles, provoquant une vague de licenciements dans cette industrie. Il s'agit d'un chômage :**

- a) frictionnel
- b) technologique
- c) technique
- d) conjoncturel

**8) La division du travail permet un accroissement :**

- a) des salaires des travailleurs
- b) de la durée du temps de travail
- c) de la productivité
- d) toutes les réponses ci-dessus sont exactes

**9) Un marché qui ne comprend que deux offreurs est :**

- a) un monopole
- b) un duopole
- c) un marché de concurrence monopolistique
- d) un cartel

**10) Lorsqu'un consommateur achète une branche de chocolat, l'argent dépensé constitue :**

- a) un flux monétaire
- b) un salaire
- c) un flux réel
- d) toutes les réponses ci-dessus sont correctes

**/ 10 pts**

**Question 4 – Les secteurs économiques et le circuit économique (23 points)**

1. Indiquez, à l'aide d'une croix, à quel secteur économique appartiennent les professions ci-dessous :

	Primaire	Secondaire	Tertiaire
<b>Secrétaire de direction</b>			
<b>Héliculteur ou éleveur d'escargot</b>			
<b>Banquier</b>			
<b>Boulangère</b>			
<b>Métallurgiste</b>			
<b>Agriculteur</b>			
<b>Architecte d'intérieur</b>			
<b>Horloger</b>			

/ 4 pts

2. Pour chaque image ci-dessous, indiquez à quel secteur économique elle fait référence et justifiez votre choix.

a)

/ 2 pts



Secteur économique<sup>2</sup> : .....

Justification : .....

.....



b)

/ 2 pts

Secteur économique<sup>2</sup> : .....

Justification : .....

.....



c)

/ 2 pts

Secteur économique<sup>2</sup> : .....

Justification : .....

.....



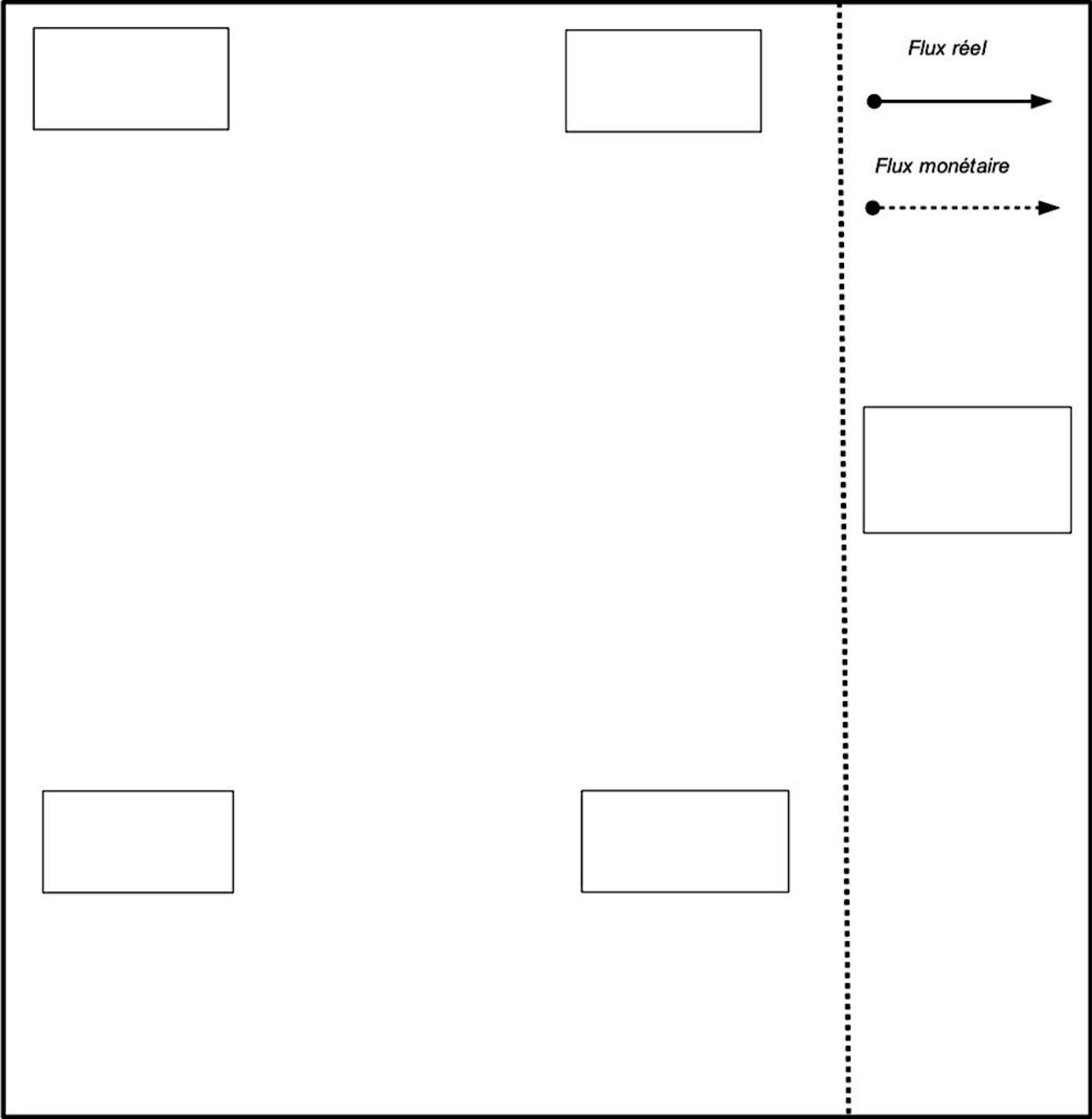
---

<sup>2</sup> Toutes les images sont libres de droit et prises sur Pixabay.

3. Lisez attentivement le texte en **Annexe 2 (page 18)**, puis reconstituez le circuit économique comprenant les agents économiques ainsi que leurs relations en n'utilisant que les éléments du texte. Distinguez les flux réels des flux monétaires.


**/ 13 pts**

(attention : au total, 11 flux sont demandés)



### Question 5 – Travail et chômage (13 points)

Prenez connaissance du dessin de presse<sup>3</sup> ci-dessous et répondez aux questions s’y rapportant.



1. Décrivez en détail ce dessin de presse de manière à ce qu’une personne non-voyante puisse s’en faire une image précise.

.....

.....

.....

.....

.....

/ 2 pts

2. Quels sont les avantages de remplacer les êtres humains par un robot. Donnez deux éléments de réponse.

.....

.....

.....

/ 2 pts

<sup>3</sup> Source : <https://www.chappatte.com/gctag/retraite/>

3. Dans quel secteur économique travaille la personne qui licencie le travailleur ? Justifiez votre réponse.

.....  
.....  
.....

**/ 2 pts**

4. Quel type de chômage est illustré ici ? Justifiez votre réponse.

.....  
.....  
.....

**/ 2 pts**

5. Quelles seraient les autres conséquences à long terme de cette situation ? Citez-en deux.

.....  
.....  
.....

**/ 2 pts**

6. En théorie, quel agent économique doit agir pour résorber ce type de chômage ?

.....

**/ 1 pt**

7. Proposez deux moyens à disposition de cet agent pour lutter contre ce type de chômage.

.....  
.....  
.....  
.....  
.....  
.....  
.....

**/ 2 pts**


### **Question 6 – L'offre et la demande (12 points)**

Vous êtes négociant pour une grande marque de farine à Genève. Tous les mois, vous vous rendez à Cointrin sur les marchés boursiers pour acheter votre stock mensuel de sacs de farine. Malheureusement, vous y trouvez beaucoup de concurrence, notamment des négociants travaillant pour d'autres marques. Ce matin, vous avez reçu les informations tarifaires suivantes concernant les ventes mensuelles de farine :

<b>Prix (au kg)</b>	<b>Quantités offertes</b>		<b>Prix (au kg)</b>	<b>Quantités demandées</b>
9 CHF	1 kg		600 CHF	1 kg
30 CHF	5 kg		550 CHF	5 kg
70 CHF	10 kg		400 CHF	10 kg
100 CHF	20 kg		300 CHF	15 kg
175 CHF	35 kg		200 CHF	40 kg
250 CHF	50 kg		125 CHF	60 kg
400 CHF	75 kg		75 CHF	65 kg
500 CHF	90 kg		50 CHF	80 kg
600 CHF	100 kg		9 CHF	100 kg

a) Présentez, sur le graphique ci-dessous, les courbes d'offre et de demande de farine, ainsi que le prix et la quantité d'équilibre du marché. Nommez les axes, ainsi que les courbes.

.....



.....

**/ 4 pts**

b) Quels sont le prix et la quantité d'équilibre ?

.....  
.....

**/ 2 pts**

c) Dans quelle situation de déséquilibre se trouverait-on si le marché fixait artificiellement un prix de 100 CHF/kg ? Répondez en chiffrant (en kg) ce déséquilibre.

.....  
.....

**/ 2 pts**

d) Une semaine plus tard, vous recevez une étude montrant que les habitudes alimentaires des ménages sont en train d'évoluer et que de plus en plus de personnes suivent des régimes alimentaires sans gluten<sup>4</sup>, en raison des troubles gastriques engendrés.

➤ Indiquez le facteur qui influence la formation de prix dans ce marché, ainsi que les conséquences de cette tendance sur le prix et la quantité d'équilibre des farines ordinaires.

.....  
.....  
.....  
.....  
.....

**/ 2 pts**

➤ Selon vous, quelles conséquences auront ces nouvelles préférences alimentaires sur le marché des farines sans gluten ? Indiquez les variations de la demande, du prix et des quantités échangées.

.....  
.....  
.....

**/ 2 pts**

---

<sup>4</sup> Substance contenue dans le blé, et donc dans les farines ordinaires. Le gluten est absent des farines alternatives.

## **Voici les produits dont les prix flambent en Suisse et pourquoi<sup>5</sup>**

Carburants, hydrocarbures, mais aussi poissons et voitures : le prix de nombreux biens et services a augmenté à des niveaux jamais atteints ces dernières années. Une hausse plus importante que prévu, et qui ne va pas s'arrêter.

La vie coûte plus cher en Suisse. Entre mai 2021 et mai 2022, les prix ont augmenté de 2,9 % : du jamais vu depuis septembre 2008. C'est ce qui ressort des données publiées jeudi par l'Office fédéral de la statistique.

Cette hausse du coût de la vie est « plus importante que prévu », estime Sergio Rossi, économiste à l'Université de Fribourg. Elle s'explique par deux éléments principaux, selon le spécialiste : la reprise post-Covid et, surtout, la guerre en Ukraine.

Carburants, énergie, aliments : l'augmentation des prix touche plusieurs catégories de produits du quotidien. Voici quelques biens les plus touchés, et pourquoi.

### **Carburants**

C'est peut-être la hausse qui a été ressentie le plus rapidement par la population : les prix des carburants. En mai 2022, les tarifs de l'essence ont bondi de 25,3 % sur une année, soit une hausse jamais atteinte au cours de ces dix dernières années.

Cette situation s'explique, d'abord, par les suites de la pandémie. « Une fois les mesures sanitaires levées, la demande de carburants a grimpé », explique Sergio Rossi. « Mais l'offre a eu de la peine à suivre, les entreprises ayant baissé la production à cause des confinements, et cela a fait augmenter les prix pendant quelques mois ».

Le conflit en Ukraine a nettement compliqué les choses. La guerre et les sanctions contre la Russie ont fait envoler les prix du pétrole, en raison des problèmes d'approvisionnement qu'elles génèrent.

---

<sup>5</sup> Source : <https://www.watson.ch/fr/economie/prix/554937241-hausse-des-prix-en-suisse-voici-les-produits-les-plus-touche>



## **Voitures**

Le prix des voitures d'occasion a pris 16,4 % et celui des voitures neuves 4,6 %. En cause : les goulets d'étranglement dans les chaînes logistiques internationales.

« La pandémie a retardé la livraison de microprocesseurs : par conséquent, les constructeurs n'ont pas pu produire autant de voitures que nécessaire », détaille Sergio Rossi. « Les consommateurs se sont donc tournés en masse vers le marché des voitures d'occasion, et les prix ont explosé ».

## **Et après ?**

Face à cette hausse généralisée des prix, le pouvoir d'achat des Suisses va diminuer, affirme Sergio Rossi, d'autant plus que « les salaires n'augmentent pas autant que la hausse des prix ». Surtout, poursuit le spécialiste, cela ne va pas s'arrêter de sitôt, au contraire : « Chaque jour qui passe sans qu'on voie la fin du conflit, chaque fois que de nouvelles sanctions contre la Russie sont adoptées, les prix vont augmenter ».

## Annexe 2 (document détachable de référence à la question 4, p. 10)

Thelma et Louise sont deux sœurs jumelles de vingt ans qui partagent un appartement à Plainpalais.

Thelma est étudiante en médecine, elle bénéficie également d'allocations d'études, pour un montant de 500.- par mois. Thelma & Louise sont orphelines depuis l'âge de 14 ans et depuis la mort de leurs parents, les jumelles bénéficient d'une rente orphelin d'un montant de 900.- / mois.

Louise, elle, a obtenu sa patente l'année dernière et elle vient d'ouvrir un bar dans le quartier de Plainpalais. Afin de pouvoir financer son projet de bar, Louise a bénéficié d'un prêt de 10'000.- avec un taux d'intérêt fixe (remboursable sur 5 ans ) de la part de la BCGE, en guise de soutien aux entreprises locales. Le bar bénéficie d'une scène, ce qui permet à Thelma d'organiser des « scènes ouvertes » destinées exclusivement à des groupes genevois, tous les jeudis soirs. Afin de soutenir cette idée, la ville de Genève octroie une subvention de 6000.- au bar dans le cadre des actions culturelles soutenues par le service concerné de la ville.

Le bar sert un excellent café qui provient d'une coopérative rwandaise de femmes qui se nomme « question coffee » qui a pour but de promouvoir et soutenir le café rwandais mais également le travail des agricultrices. Chaque mois, le bar reçoit donc 20 kilos de café. En tant que gérante, Louise se verse un salaire de 5'000.- .

Thelma & Louise sont très proches, et comptent vivre ensemble un maximum de temps. C'est donc très naturellement que le projet de devenir propriétaires d'une maison un jour, voit le jour. Etant orphelines depuis l'âge de 14 ans, elles ont réussi à épargner leurs rentes d'orphelines et le montant s'élève à 48'000 .- , et elles ont décidé de placer ce montant sur un compte BCGE « épargne logement » à un taux de 1,8 %.