



Date : **10 décembre 2020**

Discipline : MATHÉMATIQUES

Durée de l'épreuve : **160'**

Épreuve Semestrielle - 3^{ème} année

Nombre de pages : **3** (y compris la page d'en-tête)

Cours (libellé complet)	Nombre d'élèves	Maître correcteur
3MA1.DF01	23	M : SCHIESS
3MA1.DF02	22	C. SCRUCCA
3MA1.DF03	22	C. CRETTAZ
3MA1.DF04	21	C. CRETTAZ
3MA1.DF05	24	M. WEISS
3MA1.DF06	21	M. WEISS
3MA1.DF07	20	M. SCHIESS

Documents/Matériels autorisés

Mis à disposition par le collège :

Personnels à l'élève :

Aucun

Calculatrice modèle TI30 ou TI34 sauf modèles PRO.
Table CRM **non-annotée** (marques-pages et surlignages autorisés.)

Information au maître-surveillant

Merci de vérifier que les tables numériques sont conformes

Nom et prénom :

Groupe :

Exercice	1	2	3	4	5	6	7	8	Total
Points :	17	9	16	10	14	6	6	9	87
Obtenu :									

Informations aux élèves :

- Sur la première page des feuilles d'épreuves, veuillez vous limiter aux informations administratives, à savoir votre nom, la date et le nom du maître de la discipline. Commencer la rédaction des exercices à la page suivante.
- Numéroter chaque page de l'épreuve et indiquer votre nom sur chaque feuille.
- Rendre l'énoncé avec votre travail à la fin de l'épreuve en y annotant votre nom et groupe.
- Le travail doit être propre et bien présenté ; il sera réalisé sur les feuilles quadrillées distribuées au début de l'épreuve. Aucune réponse ne doit figurer sur l'énoncé.
- Toutes les réponses doivent être justifiées, au moins par des calculs. Les réponses du type un "nombre" ou "oui/non" ne rapportent aucun point.

Exercice 1 (17 points)

Calculer les limites suivantes :

a) (4 pts) $\lim_{x \rightarrow 2} \frac{x^3 - 8}{x^2 - 4}$

d) (2 pts) $\lim_{x \rightarrow -\infty} \frac{7 - 4x - x^3}{4x^3 + 12x^2 - 9}$

b) (4 pts) $\lim_{x \rightarrow 0} \frac{x^3 + x^2 - 3x}{x^4 - 3x^2}$

e) (3 pts) $\lim_{x \rightarrow 0} \frac{x \cdot \sin(x)}{x^3 + 2x^2}$

c) (4 pts) $\lim_{x \rightarrow 5} \frac{5 - \sqrt{20 + x}}{5 - x}$

Exercice 2 (9 points)Soit f et g deux fonctions définies par :

$$f(x) = \sqrt{x + 4} \quad \text{et} \quad g(x) = \frac{-4}{x - 2}$$

- a) (2 pts) Déterminer le domaine de définition de f et le domaine de définition de g .
- b) (2 pts) Déterminer si les fonctions f et g sont continues en justifiant votre réponse.
- c) Soit la fonction h définie par $h(x) = \begin{cases} f(x) & \text{si } x \geq 0 \\ g(x) & \text{si } x < 0 \end{cases}$
- i) (1 pts) Déterminer le domaine de définition de h .
- ii) (4 pts) Déterminer si la fonction h est continue en 0.

Exercice 3 (16 points)Étudier la fonction f définie par $f(x) = \frac{2x^2 + 3x}{2x - 1}$ en suivant les points suivants :

- a) (1 pts) Donner son domaine de définition.
- b) (3 pts) Donner les coordonnées des éventuels points d'intersections du graphique de f avec les axes.
- c) (5 pts) Donner l'équation de ses asymptotes.
- d) (3 pts) Déterminer la position relative de f par rapport à son éventuelle asymptote horizontale/oblique.
- e) (4 pts) Esquisser soigneusement le graphique de la fonction f et de ses asymptotes.
(Échelle : 2 carrés = 1 unité)

Exercice 4 (10 points)Soit la fonction f définie par $f(x) = x^2 - 3x - 5$.

- a) (4 pts) Montrer que $f'(x) = 2x - 3$ en utilisant la définition de la dérivée.
- b) (3 pts) Déterminer une équation de la tangente à f au point d'abscisse -2 .
- c) (3 pts) Déterminer les coordonnées du point P auquel la tangente à f a une pente de 5.

Exercice 5 (14 points)

Calculer la dérivée des fonctions suivantes à l'aide des règles de dérivation :

a) (3 pts) $f(x) = 2x^6 - 4 + \frac{1}{x^2}$

c) (4 pts) $f(x) = \frac{3x^2 - x + 4}{1 - 3x}$

b) (4 pts) $f(x) = (2x^2 - 3) \cdot \cos(3 - x^2)$

d) (3 pts) $f(x) = \sqrt[3]{6x + 1} - 2$

Exercice 6 (6 points)

Sans justifier vos réponses, déterminer :

- a) (3 pts) Une expression algébrique plausible d'une fonction f telle que $\lim_{x \rightarrow 3} f(x) = +\infty$ et qui possède une asymptote oblique d'équation $y = 5x - 2$.
- b) (3 pts) Une expression algébrique plausible d'une fonction g qui possède deux asymptotes verticales d'équations $x = -2$ et $x = 1$ et une asymptote horizontale d'équation $y = 8$.

Exercice 7 (6 points)

Examiner les affirmations suivantes et dire si elles sont vraies ou fausses. Justifier vos réponses (un croquis peut être utilisé comme justification).

- a) (2 pts) Si f est continue en $x = 2$, alors $\lim_{x \rightarrow 2} \frac{f(x) - f(2)}{x - 2}$ existe.
- b) (2 pts) Si f est une fonction strictement croissante sur \mathbb{R} , alors $\lim_{x \rightarrow +\infty} f(x) = +\infty$.
- c) (2 pts) Si f est une fonction continue sur l'intervalle $[a; b]$ et telle que $f(a) > 0$ et $f(b) > 0$, alors f ne possède pas de zéro dans l'intervalle $[a; b]$.

Exercice 8 (9 points)

Tracer sur un repère orthonormé l'esquisse du graphique d'une fonction f vérifiant toutes les conditions suivantes :

- $D_f = \mathbb{R} \setminus \{0; 4\}$
- Les zéros de f sont en $x = -5$ et $x = 6$
- $\lim_{x \rightarrow -\infty} f(x) = +\infty$
- $\lim_{x \rightarrow -3^-} f(x) = -2$
- $\lim_{x \rightarrow -3^+} f(x) = -4$
- f est continue uniquement sur $\mathbb{R} \setminus \{-3; 0; 4\}$
- f n'est pas dérivable en $x = -1$
- $\lim_{x \rightarrow 4} f(x) = -\infty$
- $\lim_{x \rightarrow +\infty} f(x) = 1$

Fin de l'épreuve. Bonne relecture.

Corrigé de la semestrielle 3MA1, décembre 2020

Question 1

4/4 d) $\lim_{x \rightarrow 2} \frac{x^3 - 8}{x^2 - 4} = \lim_{x \rightarrow 2} \frac{(x-2) \cdot (x^2 + 2x + 4)}{(x-2) \cdot (x+2)} = \lim_{x \rightarrow 2} \frac{x^2 + 2x + 4}{x+2} = \frac{12}{4} = 3$

1	0	0	-8
	2	4	8
1	2	4	0

4/4 b) $\lim_{x \rightarrow 0} \frac{x^5 + x^2 - 3x}{x^4 - 3x^2} = \lim_{x \rightarrow 0} \frac{x(x^2 + x - 3)}{x^2(x^2 - 3)} = \lim_{x \rightarrow 0} \frac{x^2 + x - 3}{x(x^2 - 3)}$

car $\lim_{x \rightarrow 0^-} \frac{x^2 + x - 3}{x(x^2 - 3)} = \frac{-3}{0^- \cdot (-3)} = -\infty$ et $\lim_{x \rightarrow 0^+} \frac{x^2 + x - 3}{x(x^2 - 3)} = \frac{-3}{0^+ \cdot (-3)} = +\infty$

2/2 c) $\lim_{x \rightarrow -\infty} \frac{7 - 4x - x^3}{4x^3 + 12x^2 - 9} = \lim_{x \rightarrow -\infty} \frac{x^3(\frac{7}{x^3} - \frac{4}{x^2} - 1)}{x^3(4 + \frac{12}{x} - \frac{9}{x^2})} = -\frac{1}{4}$

4/4 d) $\lim_{x \rightarrow 5} \frac{5 - \sqrt{20+x}}{5-x} = \lim_{x \rightarrow 5} \frac{5 - \sqrt{20+x}}{5-x} \cdot \frac{5 + \sqrt{20+x}}{5 + \sqrt{20+x}} = \lim_{x \rightarrow 5} \frac{25 - 20 - x}{(5-x) \cdot (5 + \sqrt{20+x})} = \lim_{x \rightarrow 5} \frac{5-x}{(5-x) \cdot (5 + \sqrt{20+x})} = \frac{1}{5+5} = \frac{1}{10}$

3/3 e) $\lim_{x \rightarrow 0} \frac{x \cdot \sin(x)}{x^3 + 2x^2} = \lim_{x \rightarrow 0} \frac{x \sin(x)}{x^2(x+2)} = \lim_{x \rightarrow 0} \frac{\sin(x)}{x} \cdot \frac{1}{x+2} = 1 \cdot \frac{1}{2} = \frac{1}{2}$

Question 2

2/2 a) $x \in D_f \Leftrightarrow x+4 \geq 0 \Leftrightarrow x \geq -4 \Rightarrow D_f = [-4; +\infty[$
 $x \in D_g \Leftrightarrow x-2 \neq 0 \Leftrightarrow x \neq 2 \Rightarrow D_g = \mathbb{R} \setminus \{2\}$

2/2 b) $x \mapsto \sqrt{x}$; $x \mapsto x+4$ et $x \mapsto x-2$ sont continues sur leur domaine, donc les opérations entre ces fonctions aussi.

1/1 c) i) $D_h = \mathbb{R}$

4/4 ii) Il faut vérifier la continuité en $x=0$

• $\lim_{x \rightarrow 0^-} h(x) = \lim_{x \rightarrow 0^-} g(x) = \frac{-4}{0-2} = 2$ ①

• $\lim_{x \rightarrow 0^+} h(x) = \lim_{x \rightarrow 0^+} f(x) = \sqrt{0+4} = 2$ ①

• $h(0) = f(0) = 2$ ①

$\Rightarrow h$ continue en $x=0$ ①

Question 3

1/1 a) $x \in D_f \Leftrightarrow 2x-1 \neq 0 \Leftrightarrow x \neq \frac{1}{2} \Rightarrow D_f = \mathbb{R} \setminus \{\frac{1}{2}\}$

b) Intersection avec l'axe des ordonnées

$$f(0) = \frac{0}{-1} = 0$$

2/2 $\Rightarrow C_f \cap OY = \{(0;0)\}$ ①

Intersection avec l'axe des abscisses

$$x \in f^{-1}(0) \Leftrightarrow \frac{2x^2+3x}{2x-1} = 0 \Leftrightarrow 2x^2+3x = 0$$
 ①

$$\Leftrightarrow x(2x+3) = 0 \Leftrightarrow x=0 \text{ ou } x = -\frac{3}{2}$$

$$\Rightarrow f^{-1}(0) = \{-\frac{3}{2}; 0\}$$

$$\Rightarrow C_f \cap OX = \{(-\frac{3}{2}; 0); (0; 0)\}$$
 ①

5/5

$$c) \begin{array}{r} 2x^2 + 3x \quad | \quad 2x - 1 \\ -(2x^2 - x) \quad | \quad x + 2 \\ \hline 4x \quad \quad \quad | \quad \quad \quad \\ -(4x - 2) \quad \quad | \quad \quad \quad \\ \hline 2 \end{array} \quad \textcircled{2}$$

$$\Rightarrow f(x) = (x+2) + \frac{2}{2x-1} \quad \textcircled{1}$$

frac. rat
simplifiée

Equation de l'asymptote verticale : $x = \frac{1}{2}$ $\textcircled{1}$

Equation de l'asymptote horizontale : $y = x + 2$ $\textcircled{1}$

3/3

d) la position relative de la courbe de f
par rapport à ses asymptotes dépend du
signe de $\frac{2}{2x-1}$

x	$-\infty$	$\frac{1}{2}$	$+\infty$
2	+	-	+
$2x-1$	-	0	+
$\frac{2}{2x-1}$	-		+

$\textcircled{2}$

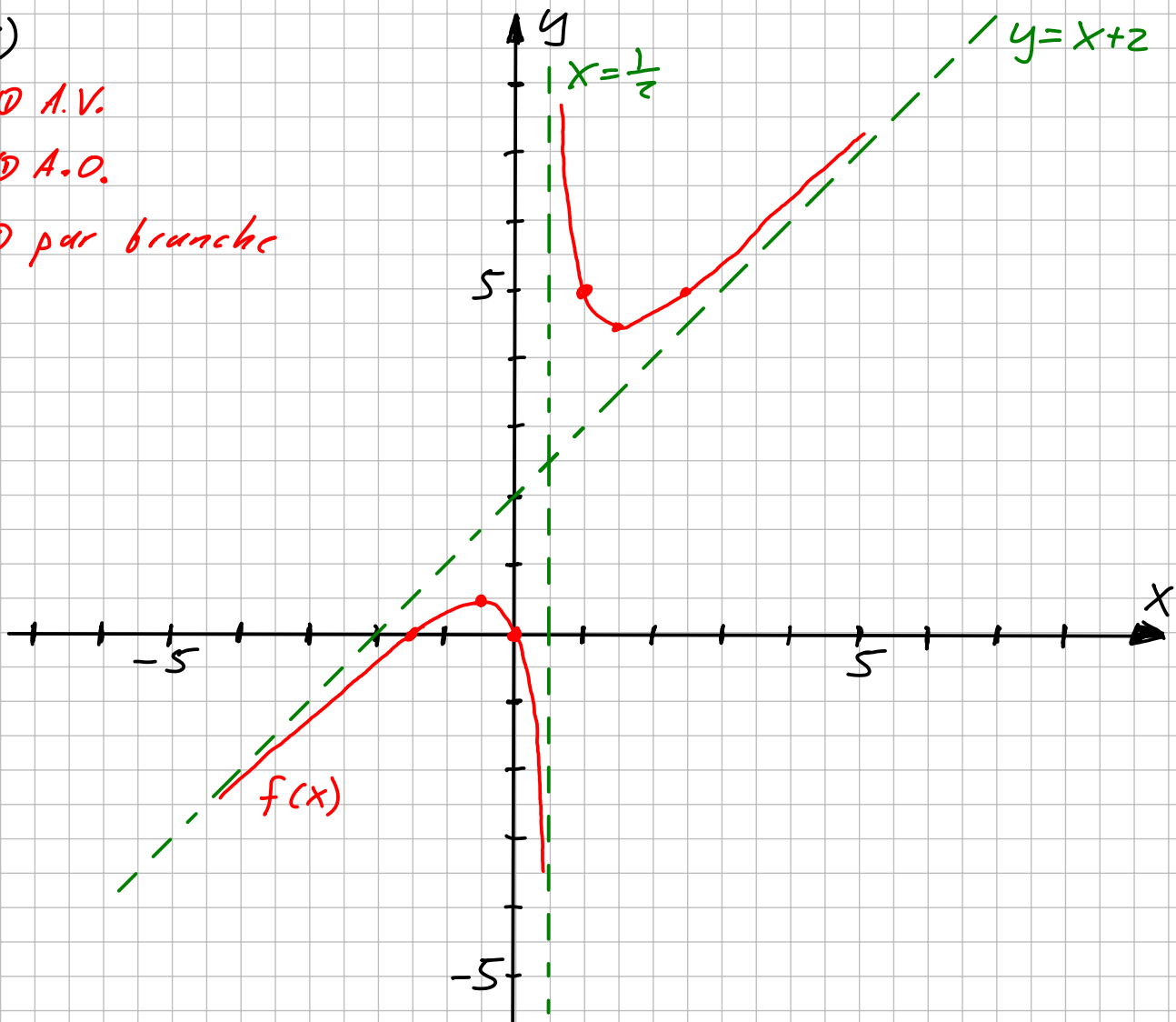
4/4

e)

$\textcircled{1}$ A.V.

$\textcircled{1}$ A.O.

$\textcircled{1}$ par branche



Question 4

4/4 d) $f'(a) = \lim_{x \rightarrow a} \frac{f(x) - f(a)}{x - a} = \lim_{x \rightarrow a} \frac{(x^2 - 3x - 5) - (a^2 - 3a - 5)}{x - a}$ ①

$$= \lim_{x \rightarrow a} \frac{x^2 - a^2 - (3x - 3a)}{x - a} = \lim_{x \rightarrow a} \frac{(x+a) \cdot \cancel{(x-a)} - 3 \cdot \cancel{(x-a)}}{x - a}$$
 ①
$$= \lim_{x \rightarrow a} (x+a) - 3 = a+a-3 = 2a-3$$
 ①

3/3 b) $T_{-2} : y = \underbrace{f'(-2)}_{2(-2)-3=-7} \cdot (x - (-2)) + \underbrace{f(-2)}_{=(-2)^2-3 \cdot (-2)-5=5}$ ①

$(\Rightarrow) y = -7(x+2) + 5$ ①

$T_{-2} : y = -7x - 9$

3/3 c) A résoudre $f'(x) = 5$ ① $(\Rightarrow) 2x - 3 = 5$ $(\Rightarrow) 2x = 8$ $(\Rightarrow) x = 4$ ①

En $(4; \underbrace{f(4)}_{4^2-3 \cdot 4-5=-1})$ ① la pente de la tangente vaut 5.

Question 5

3/3 d) $f'(x) = 2 \cdot \underbrace{(x^6)'}_{=0} - \underbrace{(4)'}_{=0} + (x^{-2})' = 2 \cdot 6x^5 + (-2)x^{-3}$ ①

$$= 12x^5 - \frac{2}{x^3}$$
 ①

4/4 c) $f'(x) = \overbrace{(2x^2-3)'}^{4x} \cos(3-x^2) + (2x^2-3) \cdot \underbrace{(-\sin(3-x^2))}'_{-2x} \cdot (3-x^2)'$ ①

$$= 4x \cos(3-x^2) + (4x^3 - 6x) \sin(3-x^2)$$
 ①

① règle produit ② composition ③ dériv poly

4/4 d) $f'(x) = \frac{(3x^2 - x + 4)' \cdot (1 - 3x) - (3x^2 - x + 4) \cdot (1 - 3x)'}{(1 - 3x)^2}$ ①

$$= \frac{(6x - 1)(1 - 3x) - (3x^2 - x + 4)(-3)}{(1 - 3x)^2}$$
 ①
$$= \frac{6x - 18x^2 - 1 + 3x + 9x^2 - 3x + 12}{(1 - 3x)^2} = \frac{-9x^2 - 6x + 11}{(1 - 3x)^2}$$
 ①

3/3 e) $f'(x) = \underbrace{(6x+1)^{1/3}}_{=0}' - \underbrace{(2)'}_{=0} = \underbrace{(6x+1)'}_{=6} \cdot \frac{1}{3} (6x+1)^{-2/3}$ ①

$$= \frac{2}{\sqrt[3]{(6x+1)^2}}$$
 ①

Question 6

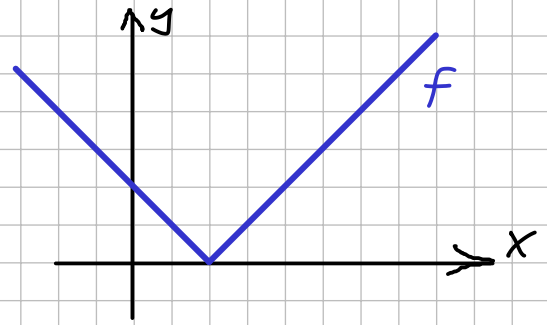
3/3 a) $f(x) = (5x-2) + \frac{1}{(x-3)^2}$ ② (1 pt si $\frac{1}{x-3}$)

3/3 b) $f(x) = 8 + \frac{1}{(x+2)(x-1)}$ ② (si stt une asymptote)

Question 7

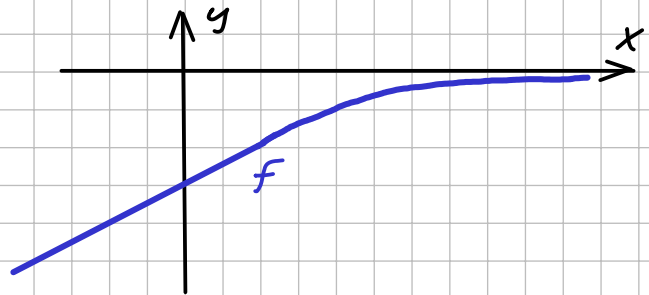
2/2 a) Non, contre exemple

$$f(x) = \begin{cases} (x-2) & \text{si } x \geq 2 \\ -(x-2) & \text{si } x < 2 \end{cases}$$



2/2 b) Non, contre exemple

$$f(x) = \begin{cases} -\frac{1}{x} & \text{si } x \geq 1 \\ -\frac{1}{2}x - \frac{1}{2} & \text{si } x < 1 \end{cases}$$



2/2 c) Faux, contre exemple $f: [-2; 2] \rightarrow \mathbb{R}$
 $x \mapsto x^2 - 1$

possède 2 zéros -1 et 1 et $f(-2) = f(2) = 3$

Question 8

① par condition

