

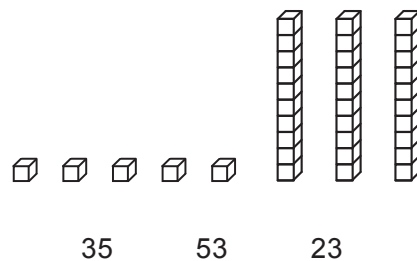
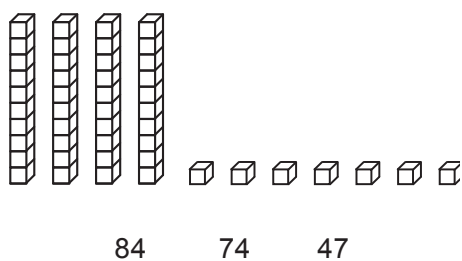
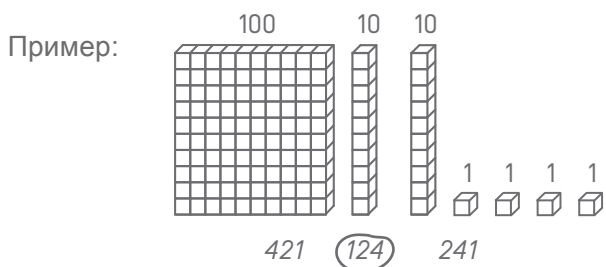
Фамилия :

Имя :

Matériel nécessaire : crayon, gomme, règle graduée, équerre, compas.

EXERCICE 1

Обведи соответствующее число, как в примере.



MI MF MS TBM

EXERCICES 2 ET 3

Прочитай задачу и обведи правильный ответ:

EX. 2

У Тома 14 красных и 16 синих шаров.
Сколько всего у него шаров?

16 – 14

14 + 14

16 + 14

16 + 16

MI MF MS TBM

EX. 3

В классе 29 учеников. Из них 15 мальчиков.
Сколько девочек в классе?

29 – 15

15 + 29

29 + 15

29 × 15

MI MF MS TBM

EXERCICE 4

Посчитай и укажи результат:

Пример: $124 = 100 + 20 + 4$

$382 = \dots + \dots + \dots$

$\dots = 500 + 80 + 2$

$\dots = 8 + 700 + 10$

MI MF MS TBM

EXERCICE 5

Вычисли:

$48 + 31 =$

$$\begin{array}{r} 166 \\ + 254 \\ \hline \end{array}$$

MI MF MS TBM

EXERCICE 6

Дополни последовательность чисел:

150	140	130	50
-----	-----	-----	-------	-------	-------	-------	-------	-------	-------	-------	----

MI MF MS TBM

EXERCICE 7

Расставь от самого малого до самого большого:

152 2 14 7 125 41 20

.....
-------	-------	-------	-------	-------	-------	-------

MI MF MS TBM

EXERCICE 8

Вычисли:

$$\begin{array}{r} 87 \\ - 52 \\ \hline \end{array}$$

$$\begin{array}{r} 512 \\ - 139 \\ \hline \end{array}$$

MI MF MS TBM

EXERCICE 9

Вычисли:

$$\begin{array}{r} 32 \\ \times 4 \\ \hline \end{array}$$

$$\begin{array}{r} 75 \\ \times 3 \\ \hline \end{array}$$

MI MF MS TBM

EXERCICE 10

Прочитай задачу и укажи ответ:

- a) В классе 26 учеников. Учительница выдала по 4 учебника каждому ученику.
Сколько всего книг она выдала?

Ответ:

- b) 4 игрокам раздаётся 32 карты.
По сколько карт получает каждый игрок?

Ответ:

MI MF MS TBM

EXERCICE 11

Измерь длину стороны BC :



Ответ:

MI MF MS TBM

EXERCICE 12

Нарисуй сегмент длиной 7 сантиметров, начиная с точки.



MI MF MS TBM

EXERCICE 13

Обведи правильный ответ.

Длина дома равна:

- 15 килограммов
- 15 метров
- 15 литров




Бутылка содержит:

- 1 километр
- 1 литр
- 1 час



Корова весит:

- 800 метров
- 800 часов
- 800 кило



Часы показывают:

- 10 литров
- 10 евро
- 10 часов



MI MF MS TBM

EXERCICE 14

Заполни равенства.

4 года = месяцев

120 мин = часа

1 кг = г

1 мин = сек

1 час = мин

1 м = см

1 км = м

1 л = сл

30 м = см

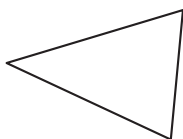
MI MF MS TBM

EXERCICE 15

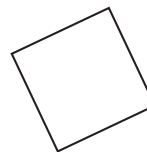
Обведи название каждой фигуры.



- окружность
- квадрат
- прямоугольник
- треугольник



- куб
- треугольник
- прямоугольник
- окружность

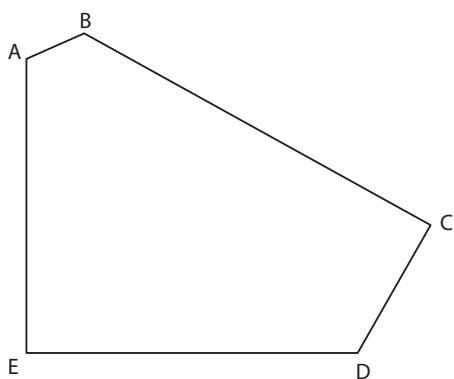


- прямоугольный треугольник
- окружность
- квадрат
- треугольник

MI MF MS TBM

EXERCICE 16

Посмотри на рисунок и напиши.



a) Сколько сторон у этой фигуры?

Ответ:

b) Сколько вершин у этой фигуры?

Ответ:

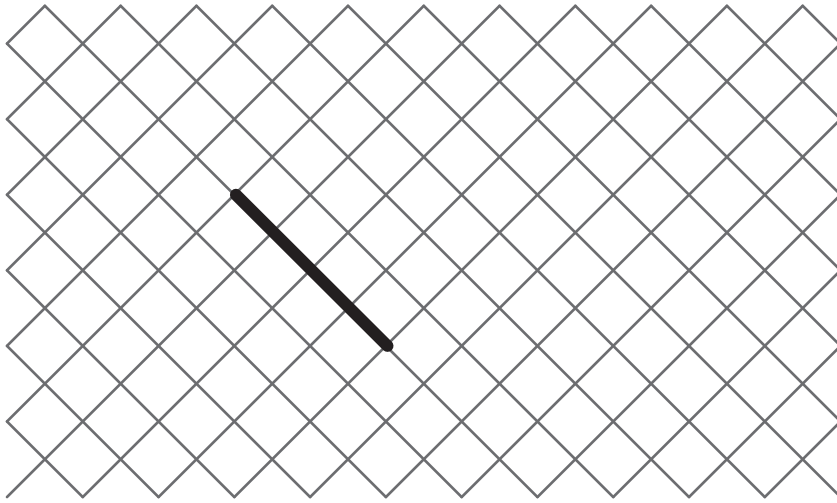
c) Сколько прямых углов у этой фигуры?

Ответ:

MI MF MS TBM

EXERCICE 17

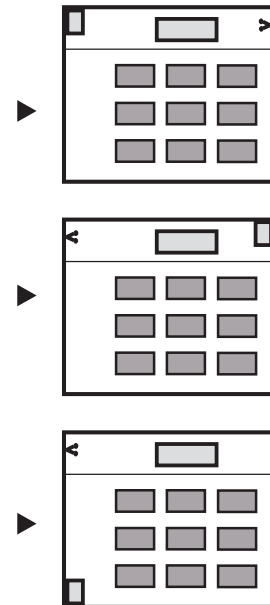

Начерти квадрат, начиная от уже нарисованной стороны.



MI MF MS TBM

EXERCICE 18

Обведи схему, соответствующую рисунку.



MI MF MS TBM

EXERCICE 19

Начерти окружность с центром A, которая проходит через точку B.



MI


MF

MS

TBM

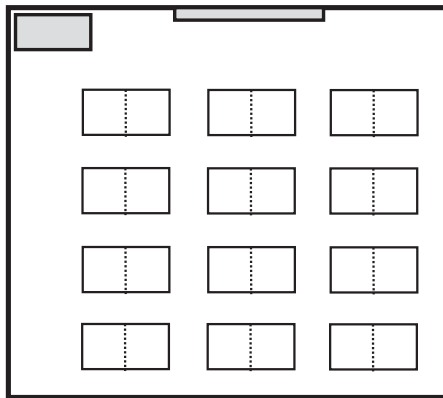
EXERCICE 20

Рассмотри рисунок класса.




а) Раскрась на схеме:

- красным цветом: доску
- зеленым цветом: парту Лёни
- синим цветом: парту Ани



б) Кто здесь сиди?
(Обведи правильный ответ)

- Лёня
- Катя
- Аня
- Петя



MI

MF

MS

TBM