

Прізвище:

Ім'я:

Matériel nécessaire : crayon, gomme, rapporteur, règle graduée, équerre, compas, crayons vert + rouge.

EXERCICE 1

Обчисли:

$$\begin{array}{r} 297 \\ \times 35 \\ \hline \end{array}$$

MI

MF

MS

TBM

EXERCICE 2

Напиши та обчисли:

$$408 \div 3$$

MI

MF

MS

TBM

EXERCICE 3

Напиши та обчисли:

$$164,8 + 26,57$$

MI

MF

MS

TBM

EXERCICE 4

Напиши та обчисли:
37,9 – 28,72

MI MF MS TBM

EXERCICE 5

Обведи дріб, яка дорівнює 5,4:

$$\frac{54}{100} \quad \frac{9}{10} \quad \frac{54}{10} \quad \frac{4}{5} \quad \frac{5}{4}$$

MI MF MS TBM

EXERCICE 6

Прочитай задачу та знайди правильну відповідь.

Павло купує 43 цукерок. Ганна має 65 цукерок.
На скільки у Ганни більше цукерок, ніж у Павла?

Відповідь:

.....

MI MF MS TBM

EXERCICE 7

Заповни.



12 €



..... €



..... €

18 €

.....

MI MF MS TBM

EXERCICE 8

Подивись на приклад:

Приклад:



$\frac{7}{10}$ смуги заштриховано сірим.

а) Доповни фразу, використовуючи дріб, як у прикладі:



..... смуги заштриховано сірим.

б) Заштрихуй $\frac{3}{4}$ смуги.



MI MF MS TBM

EXERCICE 9

Розмісти числа від найменшого до найбільшого:

3,2 3,01 3,235 3,026

.....

MI MF MS TBM

EXERCICE 10

Заштрихуй $\frac{1}{3}$ смуги.

--	--	--	--	--	--

MI MF MS TBM

EXERCICE 11

Напиши та обчисли:

49,7 x 3,6

MI MF MS TBM

EXERCICE 12

Обведи правильну відповідь:

- $\frac{1}{4} =$
- 1,4
 - 4
 - 0,25

MI MF MS TBM

EXERCICE 13

Вимагається укласти 20 яєць до коробок по 6 штук.

а) Скільки коробок будуть заповнені повністю?

.....

б) Скільки залишиться неукладених яєць?

.....

MI MF MS TBM

EXERCICE 14

Доповни рівності:

1,5 кг = г

30 хв. = год.

5 хв. = сек.

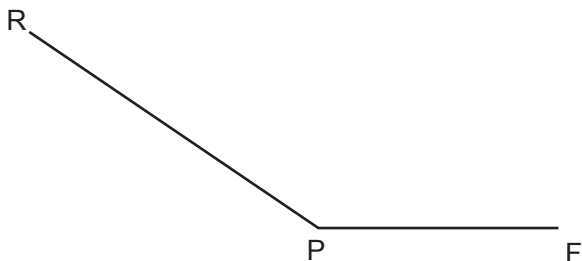
380 сл = л

2,3 км = м

MI MF MS TBM

EXERCICE 15

Виміряти цей кут:



MI

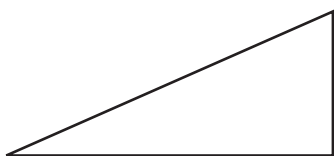
MF

MS

TBM

EXERCICE 16

Обведи назву кожної фігури.

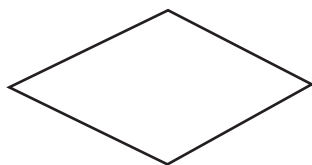


рівнобедрений трикутник

прямокутний трикутник

ромб

рівносторонній трикутник

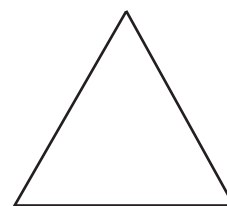


трикутник

прямокутник

куб

ромб



рівносторонній трикутник

паралелограм

прямокутний трикутник

ромб

MI

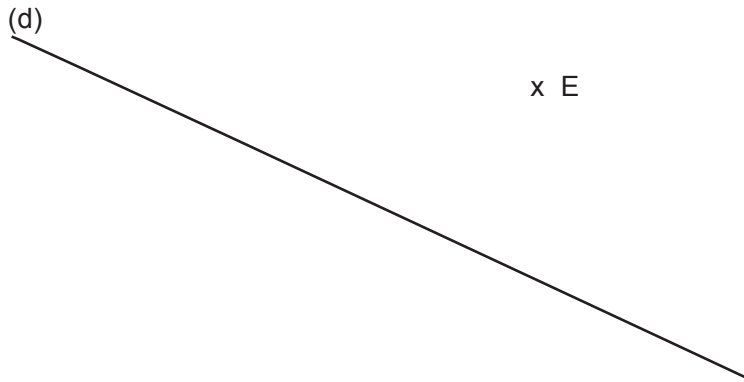
MF

MS

TBM

EXERCICE 17

Проведи зеленим перпендикуляр до прямої (d) через точку E;
 потім проведи червоним паралель до прямої (d) через точку E.

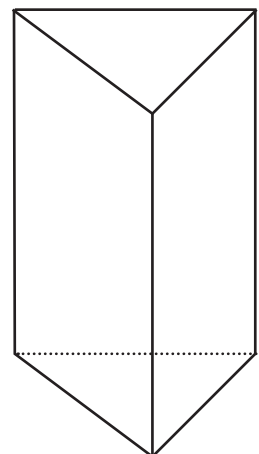


MI MF MS TBM

EXERCICE 18

Розглянь фігуру та доповни речення:

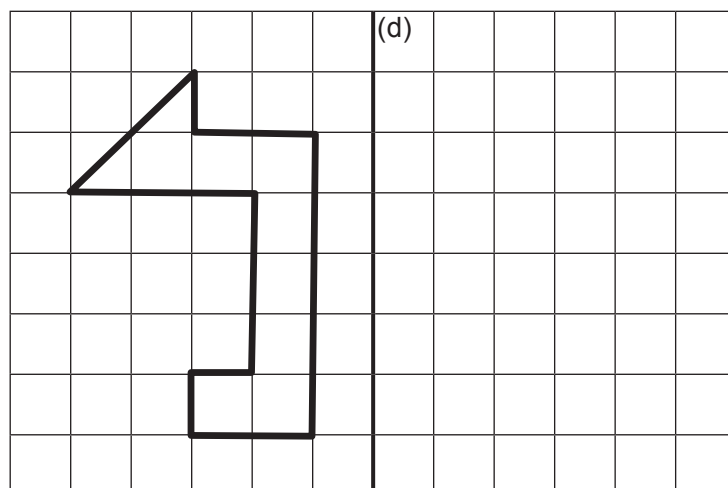
Це тіло має граней, ребер та вершин.



MI MF MS TBM

EXERCICE 19

Накресли симетричну фігуру відносно прямої (d).



MI

MF

MS

TBM

EXERCICE 20

Накресли нижче трикутник EFG, в якому

$EF = 8$ см, $FG = 6$ см і $GE = 5$ см.

MI

MF

MS

TBM