

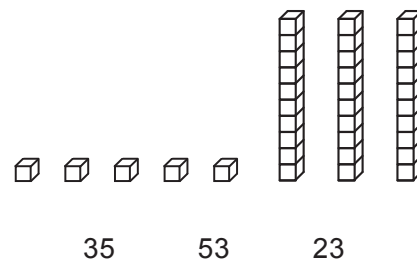
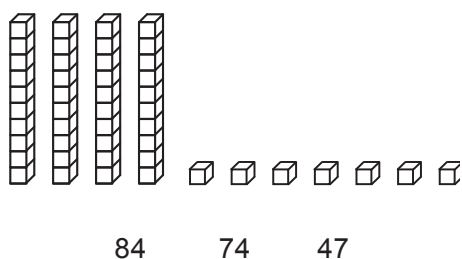
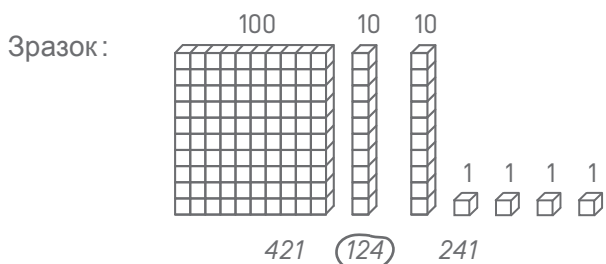
Прізвище:

Ім'я:

Matériel nécessaire : crayon, gomme, règle graduée, équerre, compas

EXERCICE 1

Обведи відповідне число, як у зразку.



MI

MF

MS

TBM

EXERCICES 2 ET 3

Прочитай задачу та обведи правильну відповідь:

EX. 2

У Тома є 14 червоних та 16 синіх куль.
Скільки всього куль він має?

16 – 14

14 + 14

16 + 14

16 + 16

MI

MF

MS

TBM

EX. 3

В класі 29 учнів. 15 учнів – хлопчики.
Скільки дівчинок у класі?

29 – 15

15 + 29

29 + 15

29 × 15

MI

MF

MS

TBM

EXERCICE 4

Доповни:

Наприклад: $124 = 100 + 20 + 4$

$382 = \dots + \dots + \dots$

$\dots = 500 + 80 + 2$

$\dots = 8 + 700 + 10$

MI MF MS TBM

EXERCICE 5

Обчисли:

$48 + 31 =$

$$\begin{array}{r} 166 \\ + 254 \\ \hline \end{array}$$

MI MF MS TBM

EXERCICE 6

Доповни послідовність чисел:

150	140	130	50
-----	-----	-----	-------	-------	-------	-------	-------	-------	-------	-------	----

MI MF MS TBM

EXERCICE 7

Розмісти від найменшого до найбільшого числа:

152 2 14 7 125 41 20

.....
-------	-------	-------	-------	-------	-------	-------

MI

MF

MS

TBM

EXERCICE 8

Обчисли:

$$\begin{array}{r} 87 \\ - 52 \\ \hline \end{array}$$

$$\begin{array}{r} 512 \\ - 139 \\ \hline \end{array}$$

MI

MF

MS

TBM

EXERCICE 9

Обчисли:

$$\begin{array}{r} 32 \\ \times 4 \\ \hline \end{array}$$

$$\begin{array}{r} 75 \\ \times 3 \\ \hline \end{array}$$

MI

MF

MS

TBM

EXERCICE 10

Прочитай умову задачі і розв'яжи її:

- а) У класі 26 учнів. Вчителька дала кожному учню 4 книжки.
Скільки всього книжок роздала вчителька?

Відповідь:


- б) 32 карти роздали 4 гравцям.
Скільки карт отримав кожен гравець?

Відповідь:

MI MF MS TBM

EXERCICE 11

Виміряй довжину BC:



Відповідь:

MI MF MS TBM

EXERCICE 12

Намалюй відрізок довжиною 7 сантиметрів, починаючи від точки.



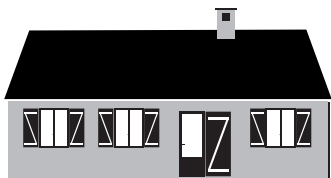
MI MF MS TBM

EXERCICE 13

Обведи правильну відповідь:

Довжина будинку дорівнює:

- 15 кілограмів
- 15 метрів
- 15 літрів




Пляшка містить:

- 1 кілометр
- 1 літр
- 1 годину



Корова важить:

- 800 метрів
- 800 годин
- 800 кілограмів



Годинник показує:

- 10 літрів
- 10 євро
- 10 годин



MI MF MS TBM

EXERCICE 14

Заповни рівності.

4 роки = місяців

120 хв. = год.

1 кг = г

1 хв. = сек.

1 год. = хв.

1 м = см

1 км = м

1 л = сл

30 м = см

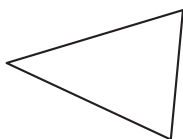
MI MF MS TBM

EXERCICE 15

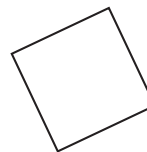
Обведи назву кожної фігури.



- Коло
- Квадрат
- Прямокутник
- Трикутник



- Куб
- Трикутник
- Прямокутник
- Коло

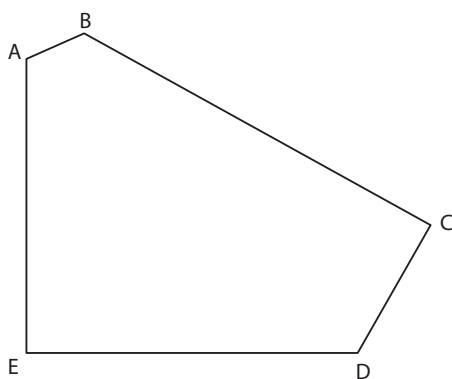


- Прямокутний трикутник
- Коло
- Квадрат
- Трикутник

MI MF MS TBM

EXERCICE 16

Подивись на малюнок та доповни.



а) Скільки сторін має ця фігура?

Відповідь:

б) Скільки вершин має ця фігура?

Відповідь:

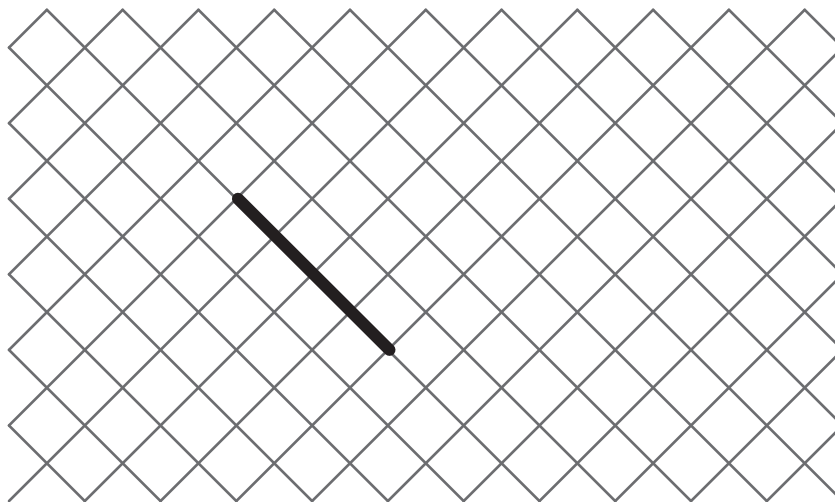
в) Скільки прямих кутів має ця фігура?

Відповідь:

MI MF MS TBM

EXERCICE 17

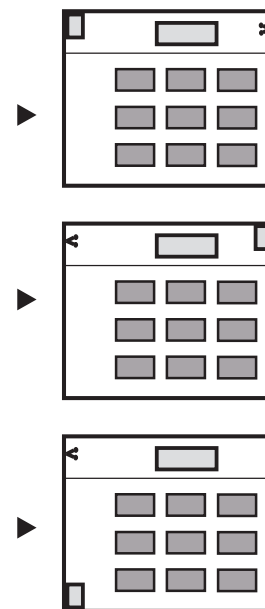

Накресли квадрат, починаючи з уже намальованої сторони.



MI MF MS TBM

EXERCICE 18

Обведи план, який відповідає малюнку.



MI MF MS TBM

EXERCICE 19

Накресли окружність з центром А так, щоб вона проходила крізь точку В.

× **B**

× **A**

MI


MF

MS

TBM

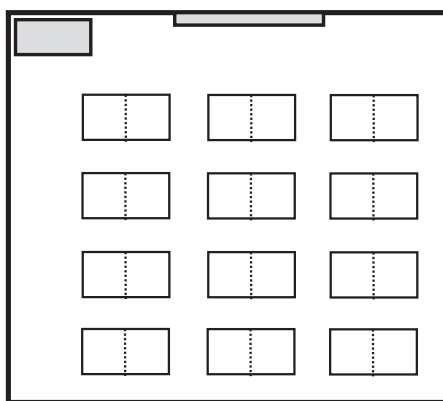
EXERCICE 20

Розглянь малюнок цього класу.



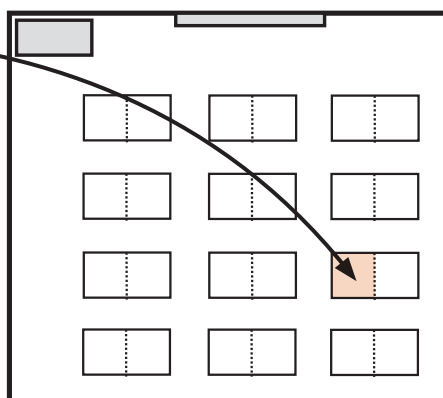
а) На кольоровому плані:

- червоним кольором позначена дошка
- зеленим кольором позначена парта Миколи
- синім кольором позначена парта Ганни



б) Хто тут сидить?
(Обведи правильну відповідь)

- Микола
- Катерина
- Ганна
- Петро



MI

MF

MS

TBM